

Qui est-ce ?

Lis les phrases et relie la description qui correspond à chaque personnage.



J'ai les cheveux noirs. Je viens d'un continent que l'on appelle l'Asie. Je porte un chapeau chinois.



J'ai de longs cheveux noirs bouclés. J'ai la peau de couleur foncée et je porte un bandeau dans mes cheveux.



J'ai la peau blanche. J'ai des taches de rousseur. Mes yeux sont fermés.



Je suis une fille aux cheveux longs bouclés. J'ai deux fleurs dans mes cheveux et j'ai des taches de rousseur.




Mes cheveux sont noirs et bouclés. Je porte des boucles d'oreille et une grosse fleur est attachée dans mes cheveux.

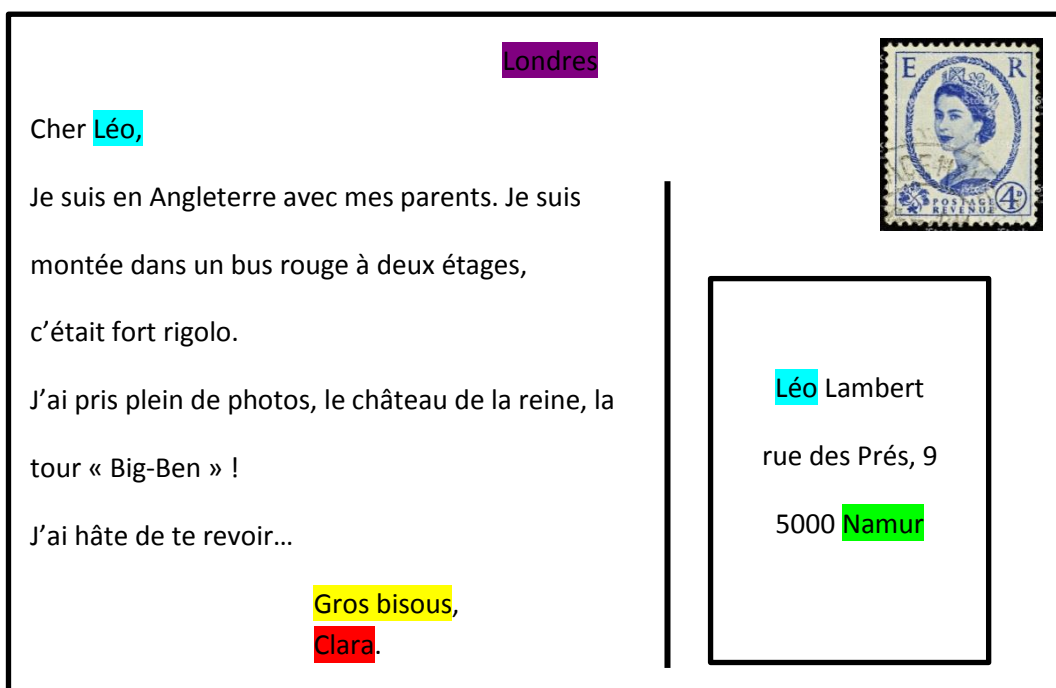
## La carte postale.

Clara est partie en vacances avec ses parents en Angleterre. Elle écrit une carte postale à son ami Léo.

recto



verso



1. Souligne en bleu le nom de celui qui va recevoir la carte postale. (le destinataire)
2. Souligne en rouge le nom de celui qui envoie la carte postale. (l'expéditeur)
3. Souligne en vert le nom de la ville où habite celui qui va recevoir la carte postale.
4. Souligne en violet le nom de la ville où se trouve celui qui envoie la carte postale.
5. Souligne en jaune la formule de politesse.
6. Colorie le drapeau de l'Angleterre avec les bonnes couleurs.

Dans la liste ci-dessous, coche ce que tu vois sur le dessin.





Image issue de « jecolorie.com »


	une pieuvre		un livre		des algues
X	un phare	X	un seau	X	un bateau
	un râteau	X	des coquillages		une couette
	un filet		un sablier	X	des rochers
X	un crabe	X	un parasol		un dauphin
X	un ballon		une bouée	X	des lunettes de soleil
	une lune	X	un palmier		un gâteau

## Mathématiques

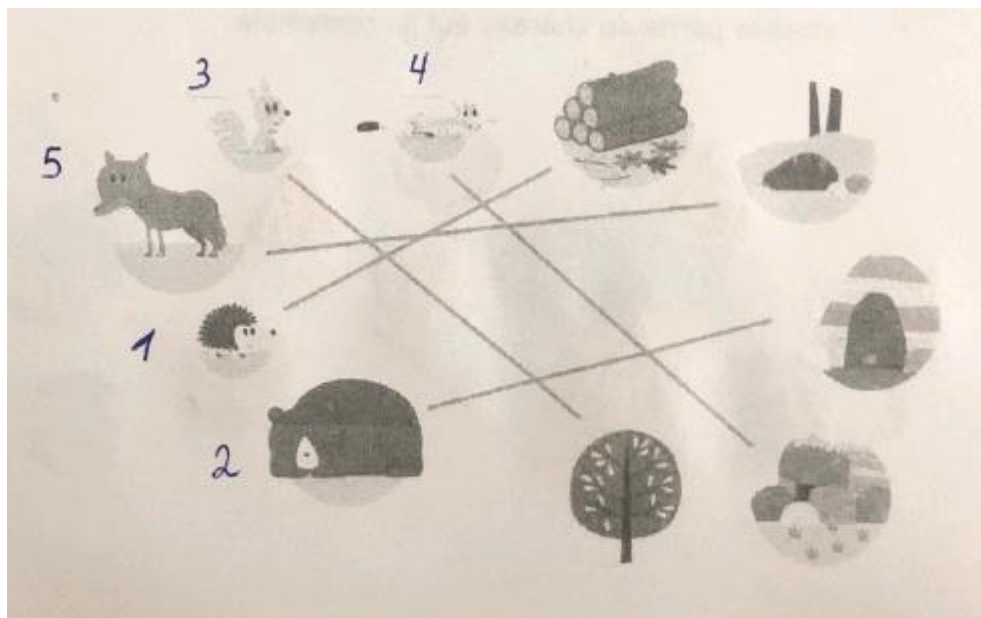
1.  $25+25+18+18 = 86$
2. Elle a dépensé plus, 6€ de plus
- 3.



- 4.







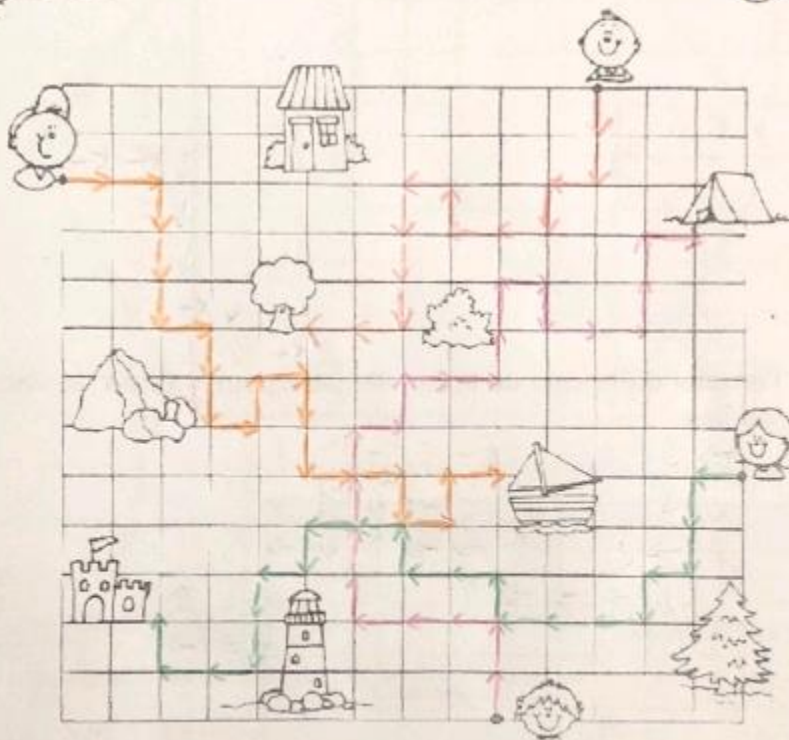
- 5.



6.

1. L'arbre - 2. Le bateau - 3. Le château - 4. La tente

	Papa	→→↓↓→↓→↓→↑→↓→↓→↓→↑→	(2)
	Maman	←↓↓←↓←←←↑←←↑←←↓↓←←↑	(3)
	Tom	↓↓↓↓←←↑←↓↓↓←←	(1)
	Lou	↑↑←←←↑↑↑→↑→↑↑→↓→→↑↑	(4)



7.

+9		-6	
Heure de NAMUR	Heure de Tokyo	Heure de NAMUR	Heure de Mexico
8	17	6	0
9	18	16	10
15	24	20	14
13	22	15	9
3	12	23	17

-9                      +6

8.

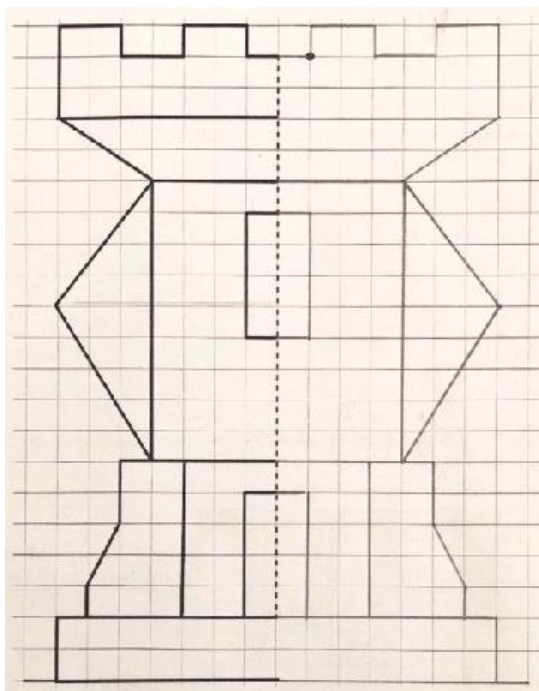
	SAMEDI	DIMANCHE	LUNDI	MARDI
10 <sup>h</sup>				
12 <sup>h</sup>	Arrivée			
14 <sup>h</sup>			Visite des grottes	
16 <sup>h</sup>		Visite des îles		
18 <sup>h</sup>				
20 <sup>h</sup>	Soirée costumée			Retour en Belgique

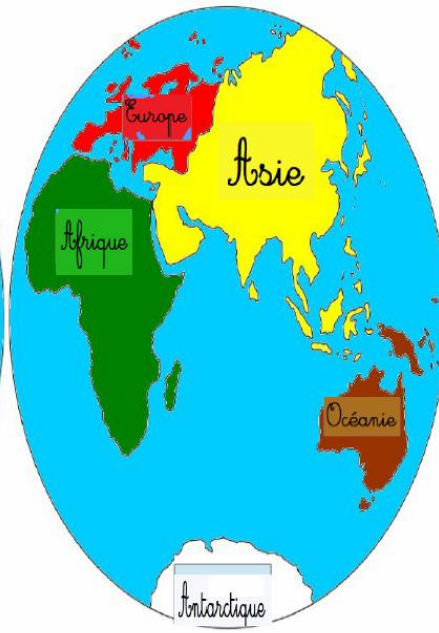


	Jour	Heure
Arrivée à l'hôtel	SAMEDI	12H
Visite des grottes	LUNDI	14H
Soirée costumée	SAMEDI	20H

b) À partir du tableau ci-dessous, complète l'agenda

9.





# Les animaux autour du monde.



Place les différents animaux sur leur continent.



