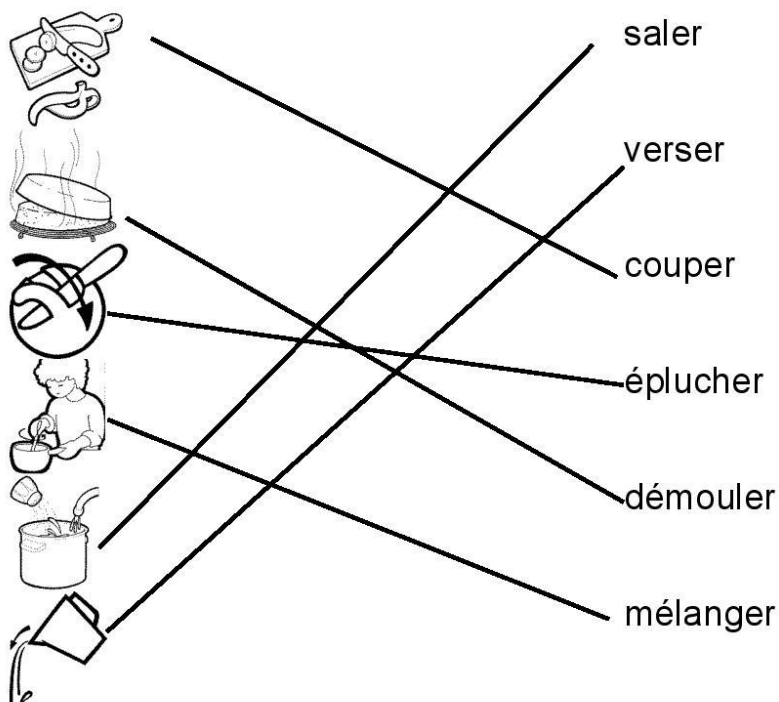


Correctif – semaine 6 : Français

1. Retrouve l'action correspondant au dessin.



2. Remplace les mots dans l'ordre pour former une phrase.

le	verse	Je	lait.
----	-------	----	-------

Je verse le lait.

coupe	la pomme	Le cuisinier	en morceaux.
-------	----------	--------------	--------------

Le cuisinier coupe la pomme en morceaux.

3. Complète avec les mots de l'histoire.

Le cuisinier **coupe** les pommes en morceaux.



Il fait fondre le **beurre** dans une casserole.

Ensuite, il place les **pommes (ou les ingrédients)** dans le moule.

4. Classe les mots dans la bonne colonne.

un fouet - les pommes - des oeufs - une casserole

les cuisiniers - un moule **des oeufs**

Singulier 	Pluriel 
<p>un fouet</p> <p>une casserole</p> <p>un moule.....</p>	<p>des oeufs</p> <p>les pommes</p> <p>les cuisiniers.</p>

5. Recherche les mots dans l'histoire pour les écrire correctement.

	une casserole		les oeufs
	la farine		le (du) beurre

Mathématiques

Effectue les comptages demandés.

Par 2 :



Par 3 :








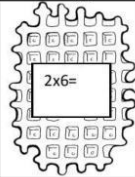
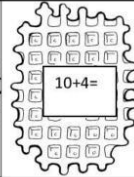
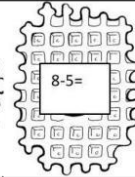
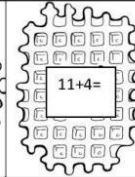
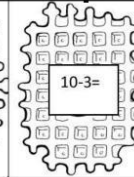
Par 4 :










Compare en utilisant > < =

<	
<	
>	
=	



















Relie le cuisinier à son gâteau

				
14	4	15	12	7
intrus				
				
$2 \times 6 =$	$10 + 4 =$	$8 - 5 =$	$11 + 4 =$	$10 - 3 =$







Relie à l'instrument de mesure .

						
---	---	---	---	---	--	---

Calcule le montant de chaque achat et dessine les pièces.

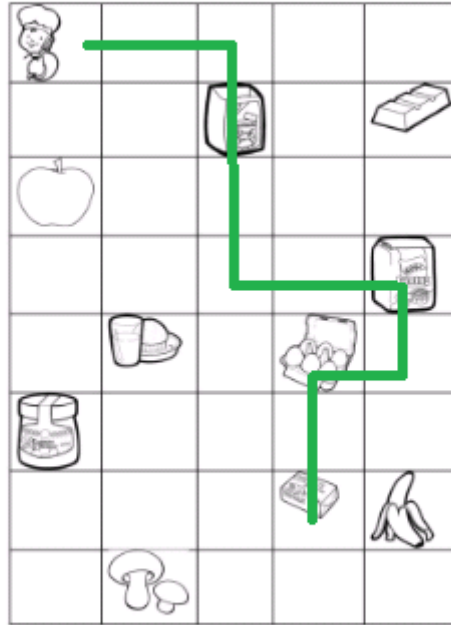
					
Manon				...+...=...€	$1 + 3 + 2 = 6$
Nicolas			...+...=...€	$4 + 3 = 7$	
Léo				...+...=...€	$3 + 3 + 4 = 10$
Jules				...+...=...€	$4 + 4 + 1 = 9$
Lucie			...+...=...€	$4 + 3 = 7$	

Compare par rapport au kilo.

- 1 kilo	1 kilo	+ 1 kilo
		
		

Retrouve les ingrédients que le cuisinier a utilisé pour faire un bon gâteau aux pommes.

Colorie-les



Eveil

Découpe et classe ces aliments selon leur saveur :

acide	amer
salé	sucré
	
	
	
	

Formation historique : « Le clafoutis aux pommes »

























*Replace les images de la recette dans l'ordre en les numérotant de 1 à 6.
(Tu peux t'aider du texte de la partie français.)*



Se divertir

Fruits et légumes

Trouve les mots ci-dessous dans la grille. Forme le mot caché avec les lettres restantes. (13 lettres)

-  ail _____
-  banane _____
-  carotte _____
-  céleri _____
-  cerise _____
-  chou _____
-  citron _____
-  citrouille _____
-  concombre _____
-  figue _____
-  fraise _____
-  framboise _____
-  kiwi _____
-  laitue _____
-  lime _____
-  litchi _____
-  maïs _____
-  mûre _____
-  noix _____
-  oignon _____
-  orange _____
-  pêche _____
-  poire _____
-  pois _____

S	I	A	M	P	A	F	I	G	U	E	M
E	L	L	I	U	O	R	T	I	O	S	P
B	A	N	A	N	E	A	U	W	I	I	E
L	E	N	O	L	E	M	O	I	T	R	U
C	E	R	I	O	P	B	H	K	R	E	T
E	A	E	R	B	M	O	C	N	O	C	I
S	T	R	N	L	U	I	R	R	N	M	A
I	O	E	O	I	R	S	S	A	A	I	L
A	M	H	N	T	E	E	I	D	N	O	I
R	A	C	G	C	T	N	O	I	X	G	M
F	T	E	I	H	U	E	P	S	S	S	E
E	E	P	O	I	C	E	L	E	R	I	S

Mot caché: _____



Combien as-tu acheté de...

- a) carottes: 4 b) fraises: 3 c) citron: 1
 d) fromage: 1 e) pommes: 6 f) bananes: 2

Indique si l'énoncé est vrai ou faux. Encerle la bonne réponse.

- a) Il y a **plus** de carottes que de bananes. Vrai Faux
 b) Il y a **moins** de pommes que de fraises. Vrai Faux
 c) Il y a **autant** de carottes que de pommes. Vrai Faux
 d) Il y a **autant** de fromage que de citron. Vrai Faux

Document par Amélie Pepin — <http://www.ameliepepin.com/scolaire>