


## Corrigé français - semaine 4

|    |   | Texte A  | Texte B    | Texte C  |
|----|---|----------|------------|----------|
| 1. | Donne le nom du personnage présenté.  | Emma     | Nico       | Paolo    |
| 2. | Dans quelle ville (capitale), le personnage se rend-il ?                                      | Paris    | Londres    | Rome     |
| 3. | Ecris le nom du pays pour chaque texte.   | France   | Angleterre | Italie   |
| 4. | Dessine un « 0 » dans la case, si le texte est un résumé de l'histoire.                       | 0        |            |          |
| 5. | Dessine une « x » dans la case si le texte est un passage du livre (une partie du livre).     |          | x          | x        |
| 6. | Cite le nom du fleuve (cours d'eau qui se jette dans la mer) dont on parle dans chaque texte. | La Seine | La Tamise  | Le Tibre |

|    |   |          |                                       |  |
|----|---|----------|---------------------------------------|--|
| 7. | Trace un « + » dans la case quand le personnage principal n'est pas un être humain.               | +        |                                       |  |
| 8. | Que sont Big Ben, l'Atlantique et la cité du Vatican ?<br>Ecris la réponse dans la bonne colonne. | Un océan | Une grande horloge                    | L'endroit où habite le Pape                                      |
| 9. | Comment se rend-il à l'école ?  |          | En « rickshaw » (vélo avec remorque). | A pied, en faisant 8 km pour s'y rendre soit 2 heures de marche. |

Mots croisés Texte A



## Mots cachés Texte B



## Rébus Texte C

Italie, colline, monument, Vatican, football, pique-nique

## Mathématiques

Pars à la rencontre de cinq peuples du monde et découvre leurs astuces et secrets mathématiques... Pour chacun d'eux, recherche leur territoire et colorie-le sur ce planisphère. Bon voyage ! (Lexique et liens en fin de dossier)



| nombre | Représentation doigt(s) | Représentation orteil(s) |
|--------|-------------------------|--------------------------|
| 12     |                         |                          |
| 17     |                         |                          |
| 8      |                         |                          |
| 15     |                         |                          |
| 16     |                         |                          |
| 13     |                         |                          |

### Le carré magique

Place les chiffres 1, 2, 3, 4, 5, 6, 7, 8 et 9 dans ce carré afin que la somme de chaque colonne, de chaque ligne et de chaque diagonale soit égale à 15.

|   |   |   |
|---|---|---|
| 4 | 9 | 2 |
| 3 | 5 | 7 |
| 8 | 1 | 6 |

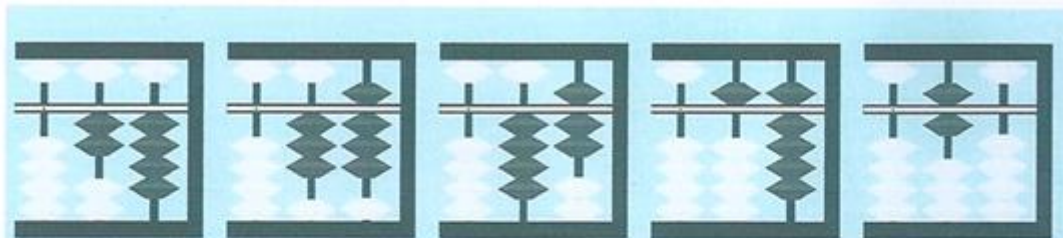
Il existe huit aspects du carré magique d'ordre 3, mais ils sont tous obtenus par symétrie, rotation ou demi-tour de la même organisation. Trouve les 7 carrés manquants !

|   |   |   |   |   |   |   |   |   |   |   |   |
|---|---|---|---|---|---|---|---|---|---|---|---|
| 4 | 9 | 2 | 6 | 1 | 8 | 8 | 1 | 6 | 4 | 3 | 8 |
| 3 | 5 | 7 | 7 | 5 | 3 | 3 | 5 | 7 | 9 | 5 | 1 |
| 8 | 1 | 6 | 2 | 9 | 4 | 4 | 9 | 2 | 2 | 7 | 6 |

|   |   |   |   |   |   |   |   |   |   |   |   |
|---|---|---|---|---|---|---|---|---|---|---|---|
| 2 | 7 | 6 | 8 | 3 | 4 | 6 | 7 | 2 | 2 | 9 | 4 |
| 9 | 5 | 1 | 1 | 5 | 9 | 1 | 5 | 9 | 7 | 5 | 3 |
| 4 | 3 | 8 | 6 | 7 | 2 | 8 | 3 | 4 | 6 | 1 | 8 |


Quels sont les nombres représentés ?



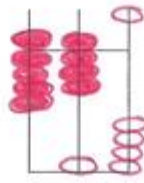
. 2 4 . 3 8 . 4 7 . 5 9 . 6 0



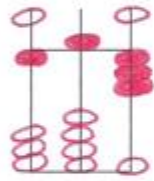
1 7 3 2 1 1 3 0 6 4 8 2 8 4 4




6 0 2



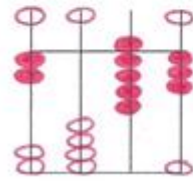
9 8 0



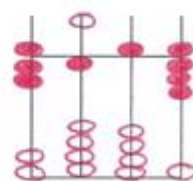
1 5 3



4 7 6



2 0 9 3



7 1 5 8





À l'aide d'un crayon et de papier (ou d'une parcelle de sable et de ton doigt), dessine un lusona en entourant chaque point à l'aide d'une seule ligne et sans soulever ton crayon (ou ton doigt). Essaie avec les points du dé.



## A la découverte du Monde

Retrouve le nom des pays de l'Union européenne et colorie leur drapeau.

(Tu peux trouver de l'aide ici : <http://soutien67.free.fr/geographie/pages/europe.htm>)

|   |                  |  |                    |
|---|------------------|--|--------------------|
|  | .....Espagne     |  | .....Angleterre... |
|  | ...Portugal..... |  | Italie             |

Relie l'image au pays correspondant



Espagne

Egypte




Inde

Italie



Portugal

Angleterre



Jordanie

Mexique





Voici les animaux qu'il a rencontrés durant ses voyages, classe-les selon leurs régimes alimentaires

| Herbivores<br>(Végétaux) | Carnivores<br>(Viandes) | Piscivores<br>(Poissons)  | Omnivores<br>(De tout) | Insectivores<br>(Insectes) | Frugivores<br>(Fruits) |
|--------------------------|-------------------------|---------------------------|------------------------|----------------------------|------------------------|
| Kangourou<br>Rhinocéros  | Lion<br>Vautour         | Martin Pêcheur<br>Pélican | Raton laveur           |                            | Orang outan<br>Toucan  |



Un kangourou



Un lion



Un vautour




Un orang outan




Un toucan



Un martin pêcheur



Un rhinocéros



























Un pélican



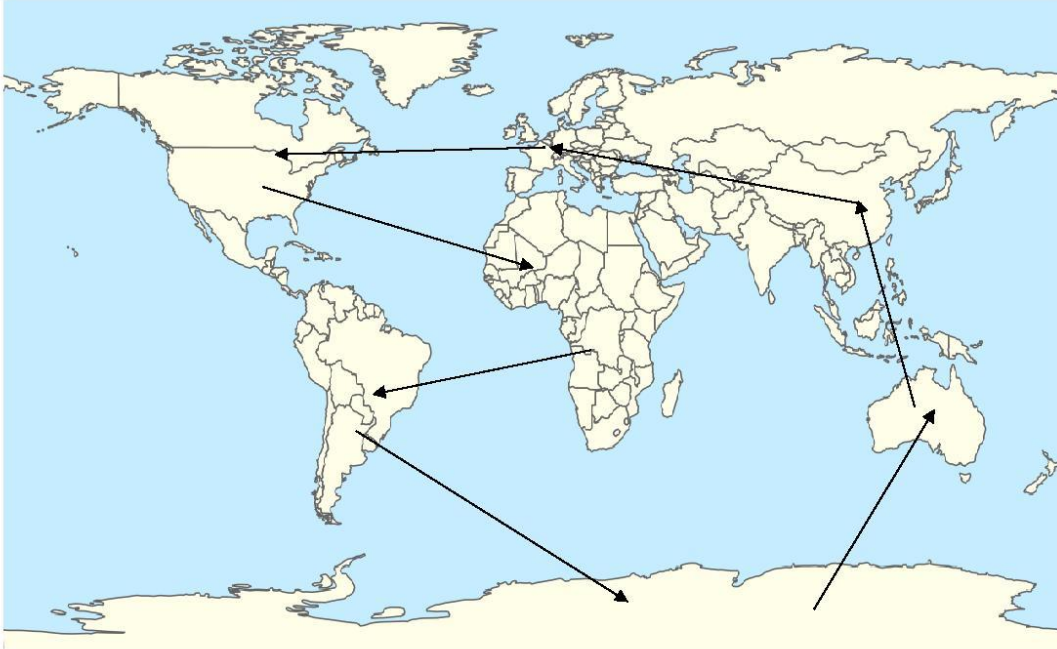
Un raton laveur

Classe ces animaux dans la bonne famille.

| Vertébrés                                      | Invertébrés                             |
|--|---|
| 3, 4, 6, 7, 9, 10, 14, 15, 16, 17, 21, 22, 24, | 1, 2, 5, 8, 11, 12, 13, 18, 19, 20, 23, |

|   |   |   |   |   |  |   |   |
|---|---|---|---|---|--|---|---|
| 1<br>  | 2<br>  | 3<br>  | 4<br>  | 5<br>  | 6<br>  | 7<br>  | 8<br>  |
| 9<br>  | 10<br> | 11<br> | 12<br> | 13<br> | 14<br> | 15<br> | 16<br> |
| 17<br> | 18<br> | 19<br> | 20<br> | 21<br> | 22<br> | 23<br> | 24<br> |

Voici la carte de voyage de Louis, complète son carnet de bord avec les continents traversés.





|             |                  |
|-------------|------------------|
| Départ      | Europe           |
| Continent 2 | Amérique du Nord |
| Continent 3 | Afrique          |
| Continent 4 | Amérique du Sud  |
| Continent 5 | Antarctique      |
| Continent 6 | Océanie          |
| Continent 7 | Asie             |



## Se divertir


Petits jeux sur le thème : « Voyage autour du monde »

Retrouve les 6 différences entre ces 2 images



Source : image téléchargée sur le site <https://lululataupe.com/>

Aide chaque enfant à rejoindre sa famille



Source : image téléchargée sur le site <https://lululataupe.com/>

Jouons à « Recherche et trouve »



Retrouve :

- La girafe
- Le crocodile
- Le panda
- Le flamant rose
- Le koala
- La baleine
- Le lémurien
- La tour de Pise
- Le kangourou
- Le lion
- Le zèbre
- Le morse
- La tour Eiffel
- Le bison